




# Қытай Банкінің ғимаратын күшейту

АТЫ-ЖӨНІ: .....

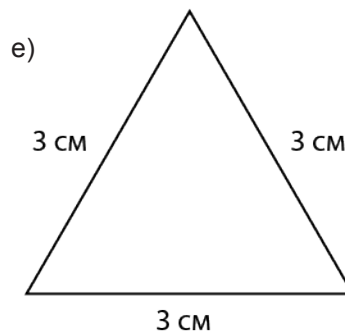
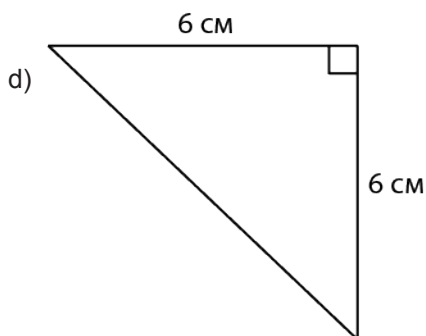
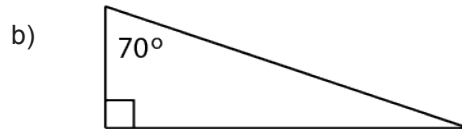
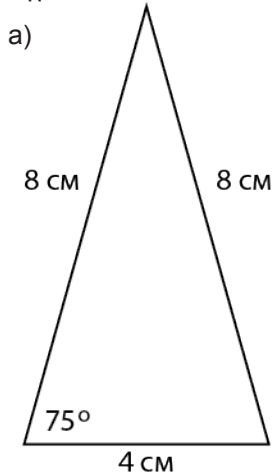
СЫНЫБЫ: .....

КҮНІ: .....



## Негізгі деңгей

1) Төмендегі үшбұрыштардың қайсысы: тең қабырғалы, тең бүйірлі, әр түрлі қабырғалы немесе тік бұрышты.



2) Жоғарыда берілген үшбұрыштардың белгісіз бұрыштарының мәнін есептеп шығарыңыз.



# Қытай Банкінің ғимаратын күшейту

АТЫ-ЖӨНІ: .....

СЫНЫБЫ: .....

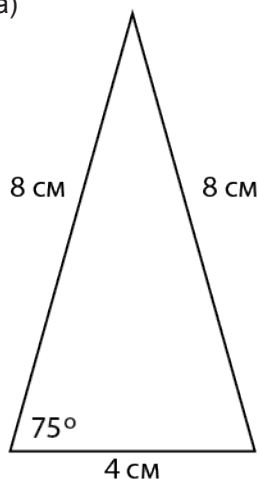
КҮНІ: .....



## Орташа деңгей

1) Төмендегі үшбұрыштардың белгісіз бұрыштарының мәнін есептеп шығарыңыз.

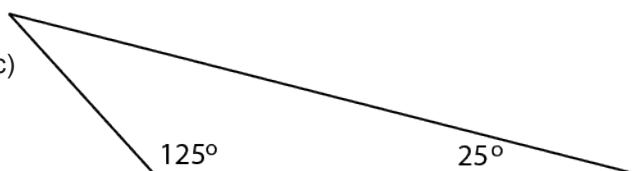
a)



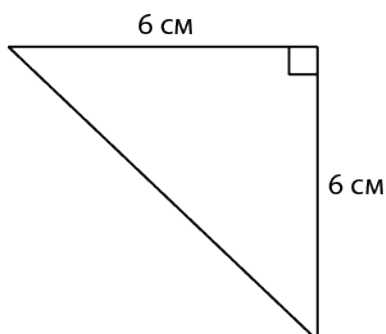
b)



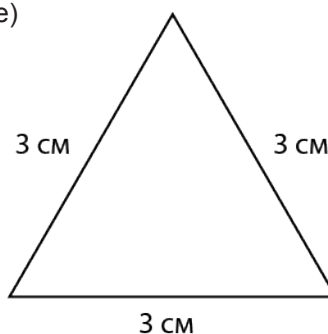
c)



d)



e)



2) Жоғарыдағы әр үшбұрыштың барлық симметрия осьтерінің түзулерін салыңыз.




# Қытай Банкінің ғимаратын күшейту

АТЫ-ЖӨНІ: .....

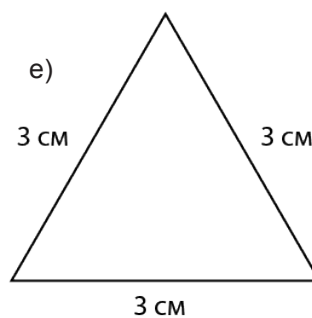
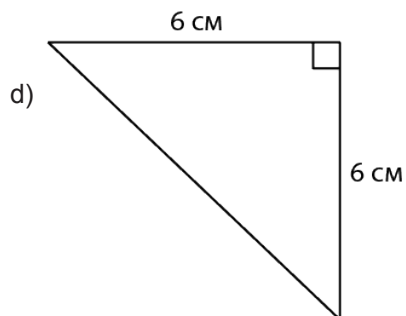
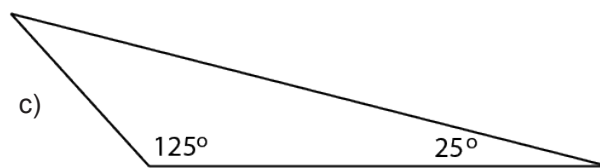
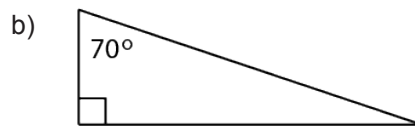
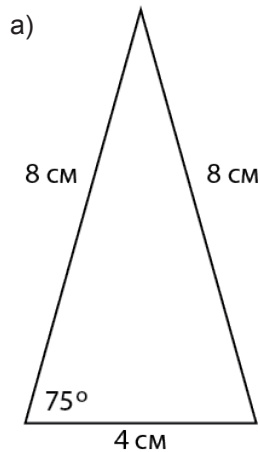
СЫНЫБЫ: .....

КҮНІ: .....

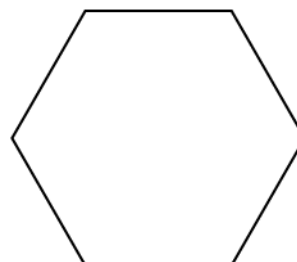
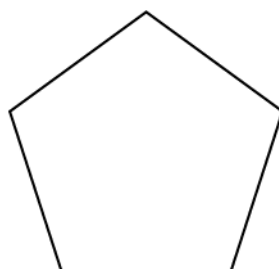



## Тереңдетілген деңгей

1) Төмендегі үшбұрыштардың белгісіз бұрыштарының мәнін есептеп шығарыңыз.



2) Төмендегі дұрыс көпбұрыштардың әрқайсысының ішкі бұрыштарының қосындысын есептеңіз:





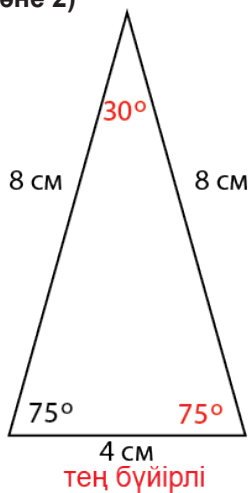
# Қытай Банкінің ғимаратын күшейту

## Жауаптар

### Негізгі деңгей

1) және 2)

a)



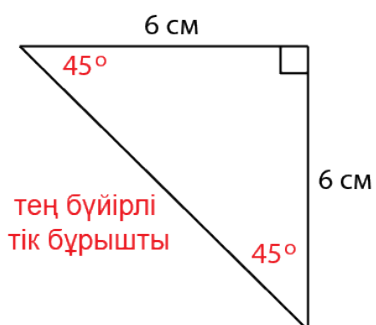
b)



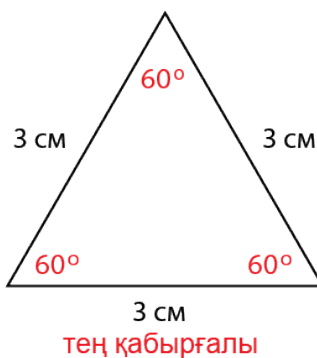
c)



d)



e)





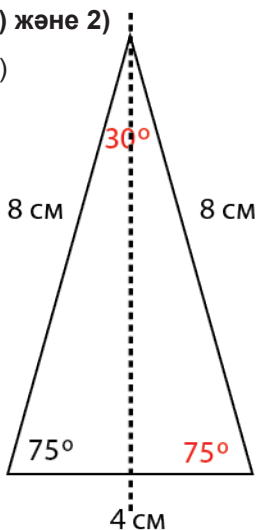
# Қытай Банкінің ғимаратын күшейту

Жауаптар

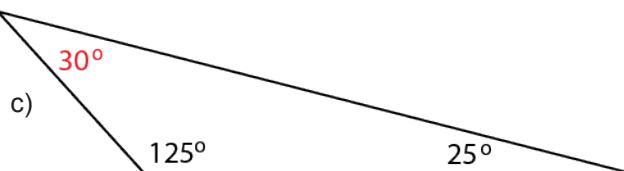
Орташа деңгей

1) және 2)

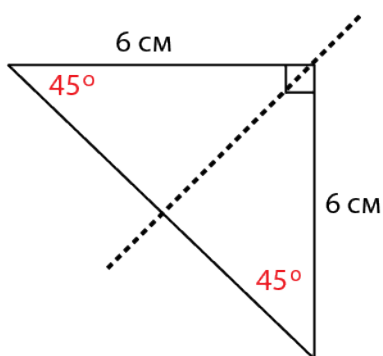
a)



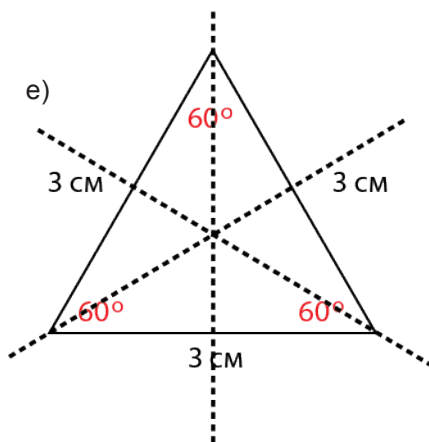
b)



d)



e)





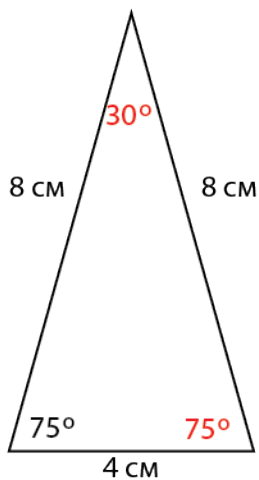
# Қытай Банкінің ғимаратын күшейту

## Жауаптар

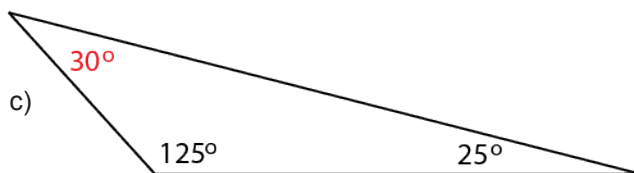
### Тереңдетілген деңгей

1)

a)

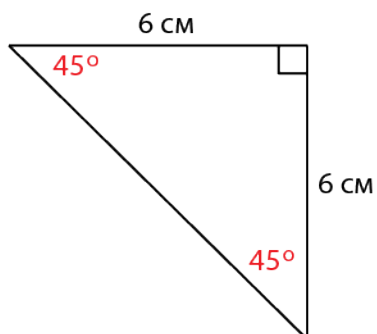


b)

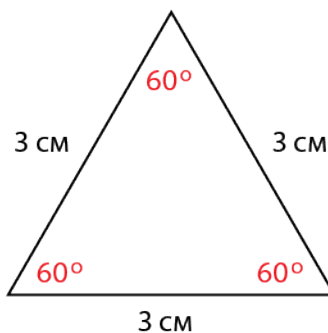


c)

d)



e)



2) a)  $360^\circ$

b)  $540^\circ$

c)  $720^\circ$