



Пирамидалардың құрылысы

АТЫ-ЖӨНІ:

СЫНЫБЫ:

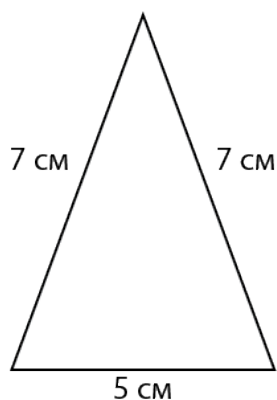
КҮНІ:



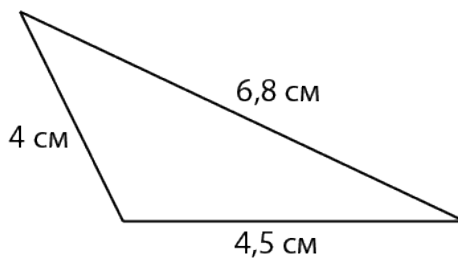
Негізгі деңгей

1) Төмендегі үшбұрыштардың қайсысы: теңқабырғалы, теңбүйірлі, әр түрлі қабырғалы немесе тікбұрышты?

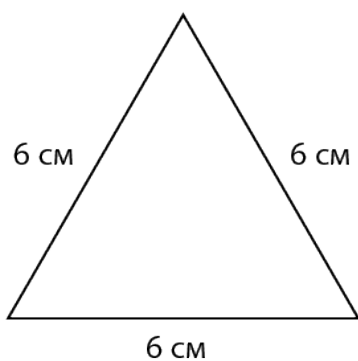
a)



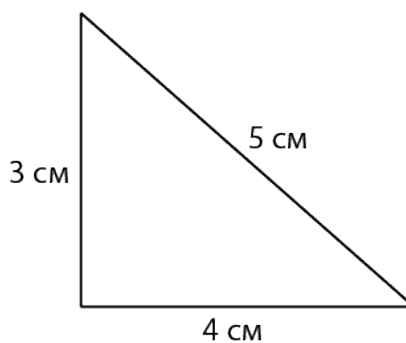
b)



c)



d)



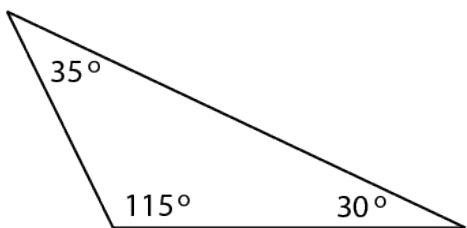


Пирамидалардың құрылысы

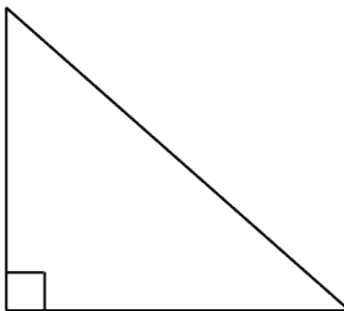
Негізгі деңгей

2) Төмендегі үшбұрыштардың қайсысы: теңқабырғалы, теңбүйірлі, әр түрлі қабырғалы немесе тікбұрышты?

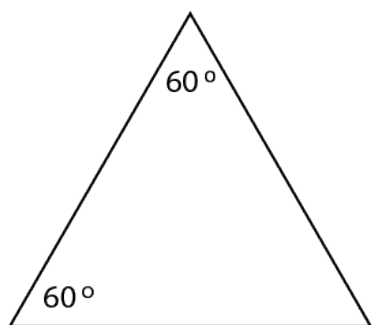
a)



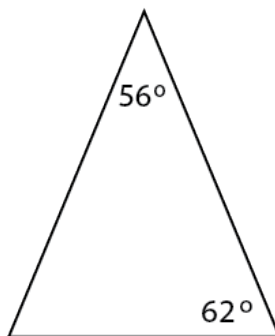
b)



c)



d)





Пирамидалардың құрылысы

АТЫ-ЖӨНІ:

СЫНЫБЫ:

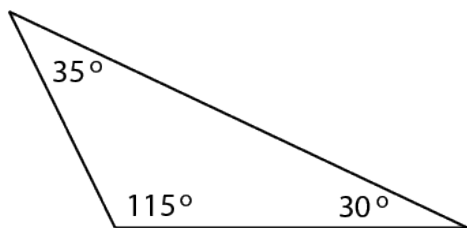
КҮНІ:



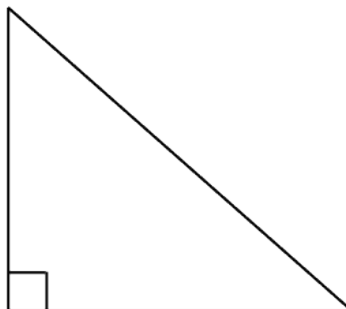
Орташа деңгей

1) Төмендегі үшбұрыштардың қайсысы: теңқабырғалы, теңбүйірлі, әр түрлі қабырғалы немесе тікбұрышты?

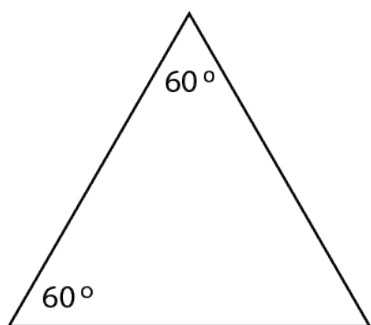
a)



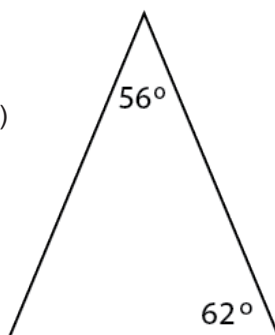
b)



c)



d)

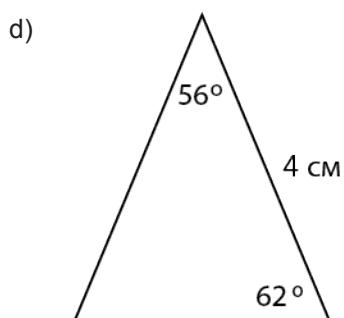
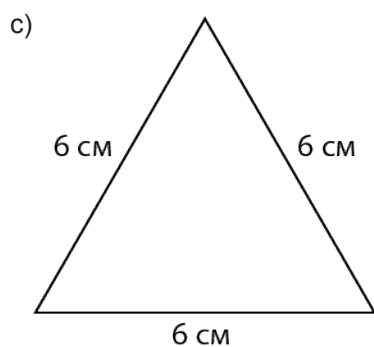
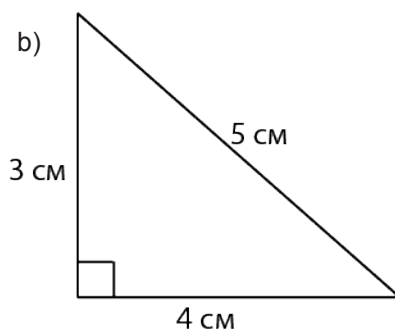
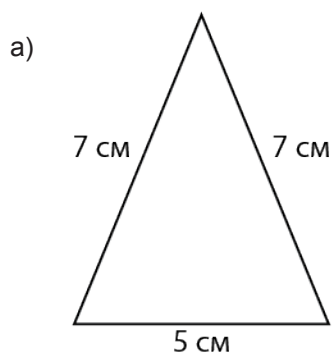




Пирамидалардың құрылысы

Орташа деңгей

2) Төмендегі үшбұрыш үлгілерін дәлме-дәл салыңыз:





Пирамидалардың құрылысы

АТЫ-ЖӨНІ:

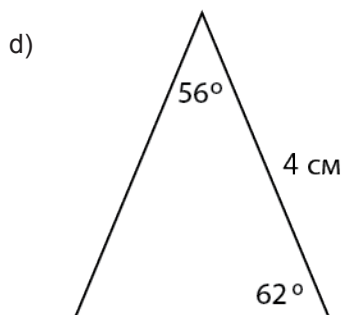
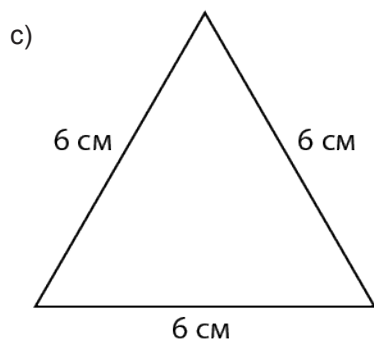
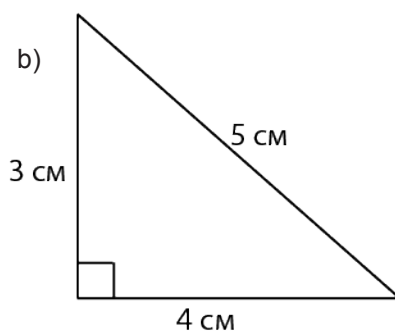
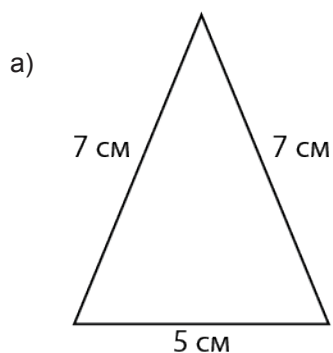
СЫНЫБЫ:

КҮНІ:



Тереңдетілген деңгей

1) Төмендегі үшбұрыш үлгілерін дәлме-дәл салыңыз:

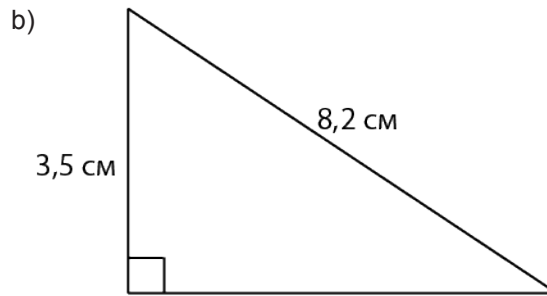
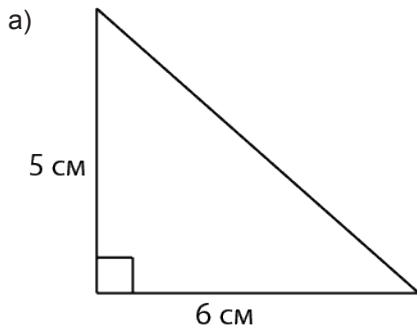




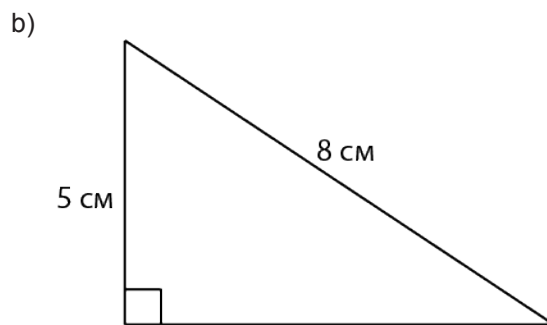
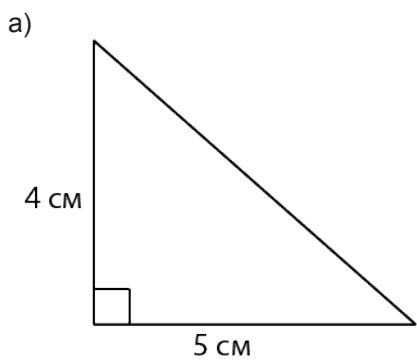
Пирамидалардың құрылысы

Тереңдетілген деңгей

2) Төмендегі тікбұрышты үшбұрыштардың белгісіз қабырғаларын есептеп табыңыз. Жауаптарыңызды бір ондық таңбаға дейін жуықтаңыз.



3) Төмендегі тікбұрышты үшбұрыштардың белгісіз қабырғаларын есептеп табыңыз. Дәл жауаптарын беріңіз.





Пирамидалардың құрылысы

Жауаптар

Негізгі деңгей

- 1) a) Теңбүйірлі b) Әр түрлі қабырғалы c) Теңқабырғалы d) Тікбұрышты
2) a) Әр түрлі қабырғалы b) Тікбұрышты c) Теңқабырғалы d) Теңбүйірлі

Орташа деңгей

- 1) a) Әр түрлі қабырғалы b) Тікбұрышты c) Теңқабырғалы d) Теңбүйірлі

Тереңдетілген деңгей

- 2) a) 7,8 см b) 7,4 см
3) a) $\sqrt{41}$ см b) $\sqrt{39}$ см