




Хатшепсут патшайымның кемесі

АТЫ-ЖӨНІ:

СЫНЫБЫ:

КҮНІ:

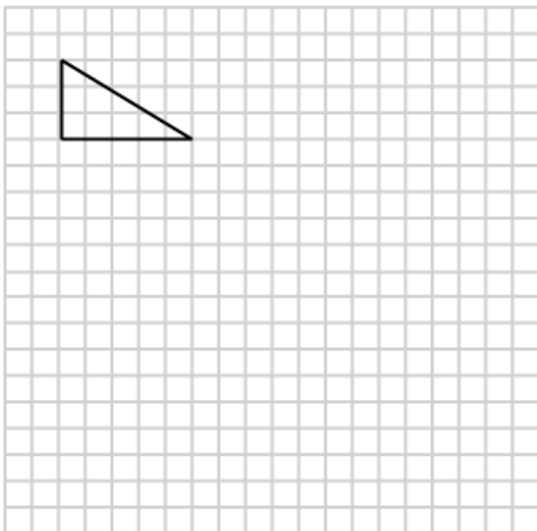
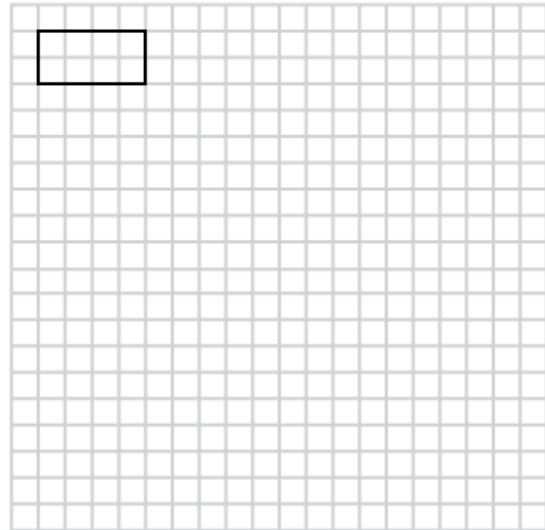
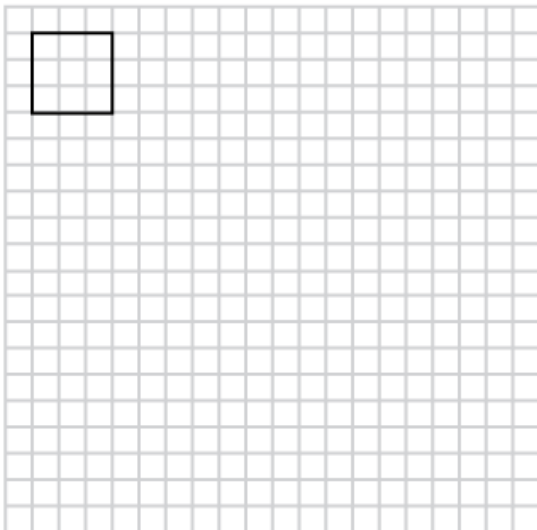


Негізгі деңгей

1) Өрбір фигураны мына масштабтық коэффициенттермен үлкейтіңіз:

a) 2

b) 3





Хатшепсут патшайымның кемесі

АТЫ-ЖӨНІ:

СЫНЫБЫ:

КҮНІ:



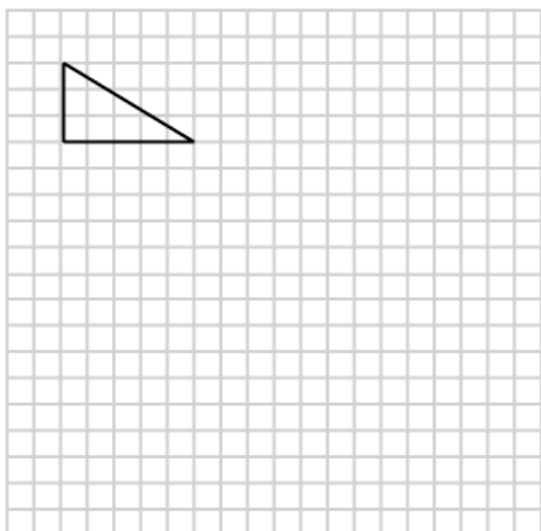
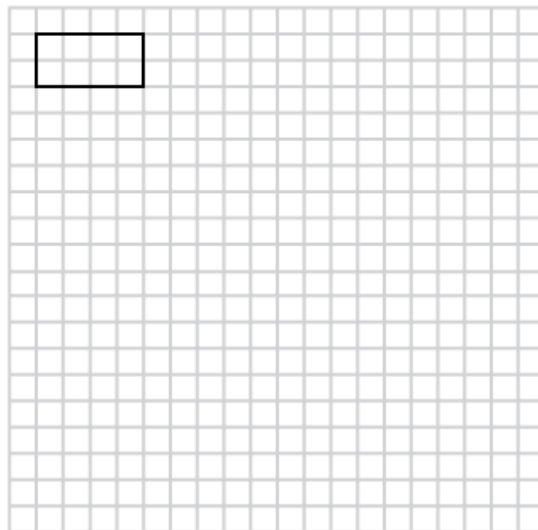
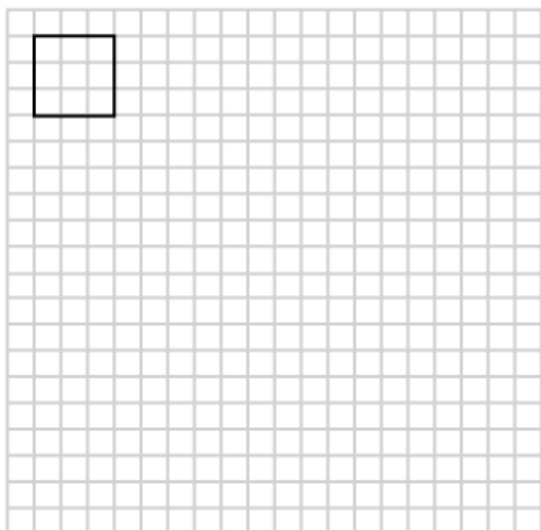
Орташа деңгей

1) Өрбір фигураны мына масштабтық коэффициенттермен үлкейтіңіз:

a) 2

b) 3

c) $\frac{1}{2}$





Хатшепсут патшайымның кемесі

АТЫ-ЖӨНІ:

СЫНЫБЫ:

КҮНІ:



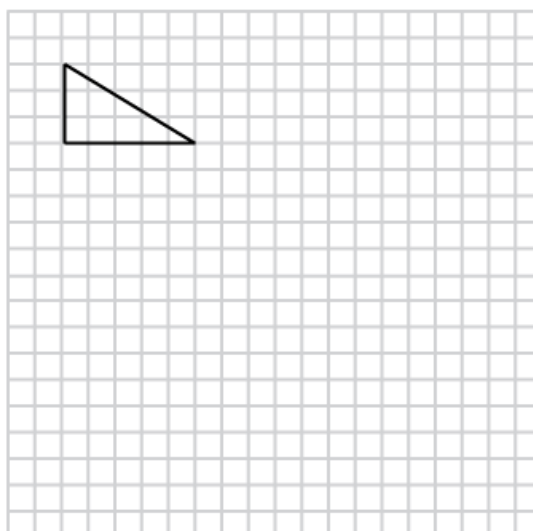
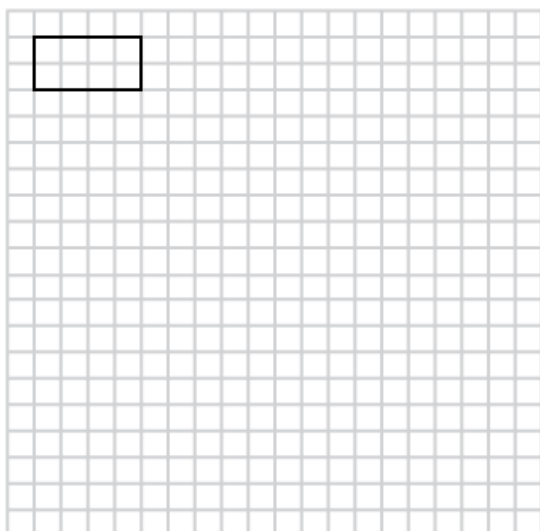
Тереңдетілген деңгей

1) Әрбір фигураны мына масштабтық коэффициенттермен үлкейтіңіз:

a) 2

b) 3

c) $\frac{1}{2}$



2) Қабырғасы 5 см болатын шаршы қабырғасы 40 см болатын шаршыға үлкейтілді, сонда масштабтық коэффициент нешеге тең?

3) Ауданы 10 см² шаршы ауданы 90 см² болатын шаршыға үлкейтілді. Сонда масштабтық коэффициент нешеге тең?

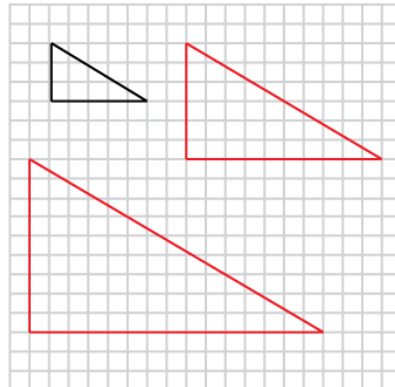
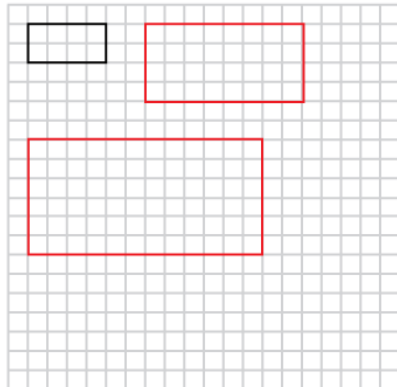
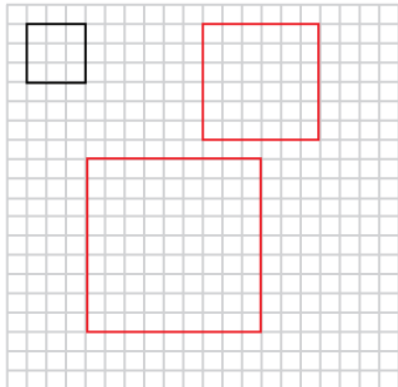


Хатшепсут патшайымның кемесі

Жауаптар

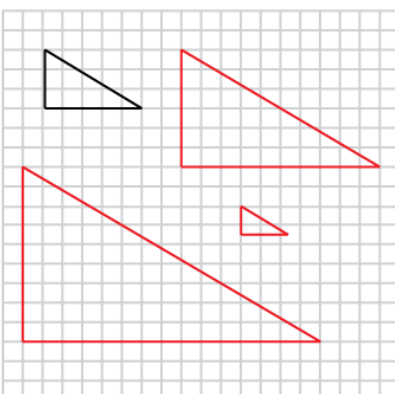
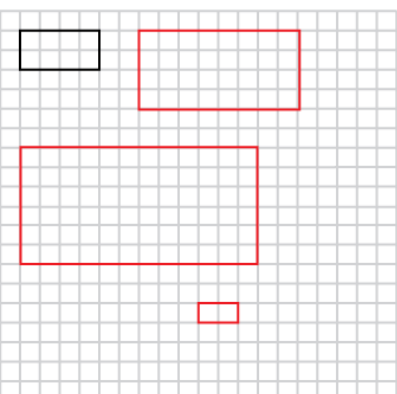
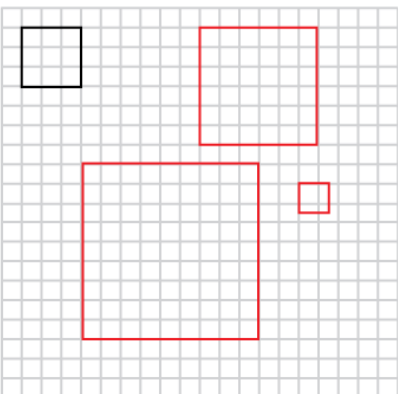
Негізгі деңгей

1)



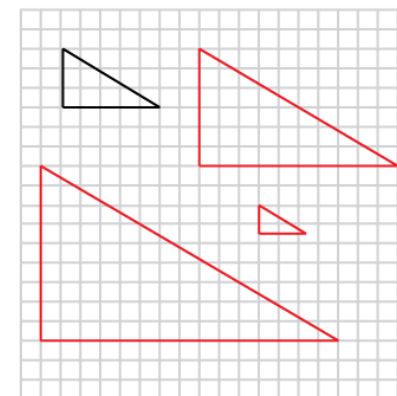
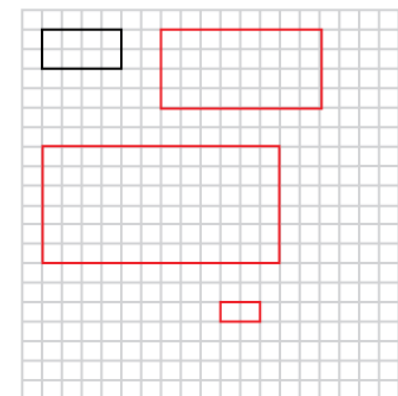
Орташа деңгей

1)



Тереңдетілген деңгей

1)



2) Масштабтық коэффициент 8-ге тең.

3) Масштабтық коэффициент 3-ке тең.